




ورقة عمل تقييمية في مادة الرياضيات - للصف الأول الأساسي

شهر مايو (الفصل الثاني) العام الدراسي ٢٠٢١-٢٠٢٢ م

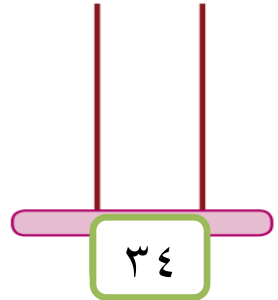
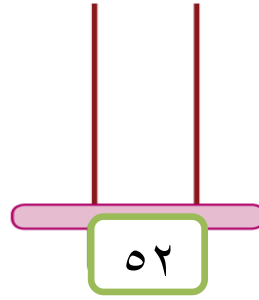
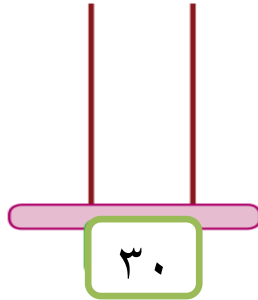
الدروس / مضاعفات العشرة - الوحدة ١١ (الهندسة)

اسم الطالب/ة: التقدير /

السؤال الأول: أكتب العدد الدال على المجموعة:



السؤال الثاني: أمثل الأعداد على المعداد:



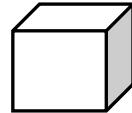

السؤال الثالث: أكمل المتتاليات بالأعداد الناقصة:



السؤال الرابع: أكمل الفراغ بالعدد المناسب :

$$\begin{array}{l} \dots + 7 = 60 \text{ (٢)} \\ \dots + \dots = 70 \text{ (١)} \\ 30 + \dots = 30 \text{ (٤)} \\ \dots + \dots = 90 \text{ (٣)} \end{array}$$

السؤال الخامس: أصل بين الشكل و اسمه:





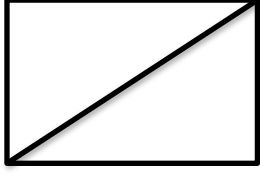
مستطيل

منحني




كرة


مكعب

السؤال السادس: أظلل حسب المطلوب:

ربع الشكل	رباعي الشكل	نصف الشكل
		

السؤال السابع: أكتب عدد القطع المستقيمة في كل شكل:

		
<input type="text"/>	<input type="text"/>	<input type="text"/>



أطيب الأمنيات بالنجاح والتوفيق



لتحميل المزيد من موقع المكتبة الفلسطينية الشاملة

<http://www.sh-pal.com>

تابعنا على صفحة الفيس بوك: www.facebook.com/shamela.pal

تابعنا على قنوات التلجرام: www.sh-pal.com/p/blog-page_42.html

أقسام موقع المكتبة الفلسطينية الشاملة:

www.sh-pal.com/p/blog-page_24.html: الصف الأول:

www.sh-pal.com/p/blog-page_46.html: الصف الثاني:

www.sh-pal.com/p/blog-page_98.html: الصف الثالث:

www.sh-pal.com/p/blog-page_72.html: الصف الرابع:

www.sh-pal.com/p/blog-page_80.html: الصف الخامس:

www.sh-pal.com/p/blog-page_13.html: الصف السادس:

www.sh-pal.com/p/blog-page_66.html: الصف السابع:

www.sh-pal.com/p/blog-page_35.html: الصف الثامن:

www.sh-pal.com/p/blog-page_78.html: الصف التاسع:

www.sh-pal.com/p/blog-page_11.html: الصف العاشر:

www.sh-pal.com/p/blog-page_37.html: الصف الحادي عشر:

www.sh-pal.com/p/blog-page_33.html: الصف الثاني عشر:

www.sh-pal.com/p/blog-page_89.html: ملازم للمتقدمين للوظائف:

www.sh-pal.com/p/blog-page_40.html: شارك معنا:

www.sh-pal.com/p/blog-page_9.html: اتصل بنا: