





ورقة عمل تقييمية في مادة الرياضيات للصف الأول الأساسي
نهاية الفصل الثاني - مدرسة القاهرة الأساسية "ب"
(2021-2022)



الدرجة

الاسم

السؤال الأول : أكتب العدد الدال على المجموعة :



السؤال الثاني : أكتب الأعداد التالية بالحروف :

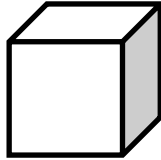
..... ٥٩

..... ٦٥

..... ٨٦

..... ٩٠

السؤال الثالث : أصل بين الشكل و اسمه :



مكعب


منحنى

كرة

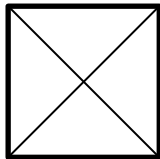
مستطيل

السؤال الرابع : أظلل حسب المطلوب :

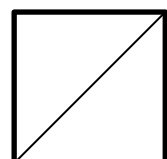
ربع الشكل :



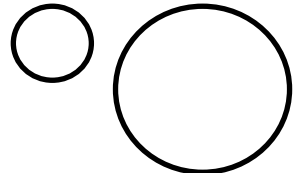
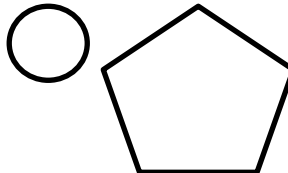
رباعي الشكل :



نصف الشكل :



السؤال الخامس : أكتب عدد القطع المستقيمة في كل شكل :



السؤال السادس : أكمل الفراغ بالعدد المناسب :

$$٣٠ + \dots = ٣٠$$

$$٧٠ = \dots + \text{أحاد} + \dots \text{عشرات}$$

$$\dots + ٥ = ٤٥$$

$$٨٠ = \dots + \text{أحاد} + \dots \text{عشرات}$$



لتحميل المزيد من موقع المكتبة الفلسطينية الشاملة

<http://www.sh-pal.com>

تابعنا على صفحة الفيس بوك: www.facebook.com/shamela.pal

تابعنا على قنوات التلجرام: www.sh-pal.com/p/blog-page_42.html

أقسام موقع المكتبة الفلسطينية الشاملة:

www.sh-pal.com/p/blog-page_24.html الصف الأول:

www.sh-pal.com/p/blog-page_46.html الصف الثاني:

www.sh-pal.com/p/blog-page_98.html الصف الثالث:

www.sh-pal.com/p/blog-page_72.html الصف الرابع:

www.sh-pal.com/p/blog-page_80.html الصف الخامس:

www.sh-pal.com/p/blog-page_13.html الصف السادس:

www.sh-pal.com/p/blog-page_66.html الصف السابع:

www.sh-pal.com/p/blog-page_35.html الصف الثامن:

www.sh-pal.com/p/blog-page_78.html الصف التاسع:

www.sh-pal.com/p/blog-page_11.html الصف العاشر:

www.sh-pal.com/p/blog-page_37.html الصف الحادي عشر:

www.sh-pal.com/p/blog-page_33.html الصف الثاني عشر:

www.sh-pal.com/p/blog-page_89.html ملازم للمتقدمين للوظائف:

www.sh-pal.com/p/blog-page_40.html شارك معنا:

www.sh-pal.com/p/blog-page_9.html اتصل بنا: