



دولة فلسطين
مديرية التربية والتعليم العالي
مديرية التربية والتعليم- بيرزيت
مدرسة ذكور المزرعة القبلية الأساسية
العليا

الاسم:
الشعبة: (.....)
الدرجة: / ٢٠

امتحان نهاية الفترة الثانية للفصل الدراسي الأول لمبحث
التكنولوجيا الصف السادس للعام ٢٠٢١-٢٠٢٢

السؤال الأول : ضع دائرة حول الإجابة الصحيحة ؟ (٥ علامات)

١. ملف حجمه ٦٤٠ بت فإن حجمه بالبايت هو:
- أ. ٨٠ بايت
ب. ٦٠ بايت
ج. ٦٤ بايت
٢. الميجا بايت تساوي :
- أ. ١٠٢٤ بايت
ب. ١٠٢٤ كيلو بايت
ج. ١٠٢٤ جيجا بايت
٣. لون الإشارة في نظام الإشارة الضوئية عبارة عن :
- أ. مدخلات
ب. عمليات
ج. مخرجات
٤. المنافذ المستخدمة لنقل الصوت من والى الحاسوب :
- أ. منافذ الشبكة
ب. منافذ نقل الإشارة الصوتية
ج. منافذ USB
٥. في نظام الحاسوب القيمة ١ تعنى :
- أ. الجهاز معطل
ب. عدم وجود قيمة كهربائية
ج. وجود قيمة كهربائية

السؤال الثاني: ضع علامة (√) أمام العبارة الصحيحة و علامة (X) أمام العبارة الخطأ (٥ علامات)

١. () منفذ USB يستخدم لربط أجهزة الإدخال والإخراج مع الحاسوب .
٢. () الواحد بايت يتكون من ثماني خانات ثنائية.
٣. () تقاس سعة القرص الصلب بوحدتي الجيجا بايت .
٤. () يتكون نظام العد الثنائي من رقمين اثنين هما (١ , ٢).
٥. () الملف الأكبر حجماً يشغل حيزاً أكبر في الذاكرة.

السؤال الثالث : صنف الوحدات الآتية إلى وحدات إدخال ووحدات إخراج (٣ علامات)

(الماسح الضوئي - شاشة العرض - عصا التحكم بالألعاب - الطابعة - السماعات - الميكروفون)






وحدات إدخال	وحدات إخراج

السؤال الرابع : قارن بين القرص الصلب (HARD DISK) والذاكرة المؤقتة (RAM) : (علامتان)

وجه المقارنة	القرص الصلب	الذاكرة المؤقتة
الاحتفاظ بالبيانات
اذا انقطع التيار الكهربائي

(٥ علامات)

السؤال الخامس : اكتب دلالة كل صورة من الصور التالية :

بالتوفيق لجميع احبابي الطلبة

معلم المادة : معاذ شحادة

